



## PROVA D'ACCÉS A GRAU SUPERIOR

*Convocatòria de 2023*

VERSIÓ CATALANA\_NOA

### INSTRUCCIONS DE LA PROVA

- Disposau d'**1 hora i 30 minuts** per fer la prova.
- L'examen s'ha de presentar escrit **amb tinta blava o negra**, no a llapis.
- **No** es poden usar **telèfons mòbils** ni **aparells electrònics**.
- **No** es pot entrar a l'examen amb **texts o documents escrits**.
- Les **errades ortogràfiques** descompten fins a **2 punts**.

### DADES PERSONALS DE L'ALUMNE/A

Nom: \_\_\_\_\_

Llinatges: \_\_\_\_\_

DNI/NIE:

--	--	--	--	--	--	--	--	--

Qualificació:

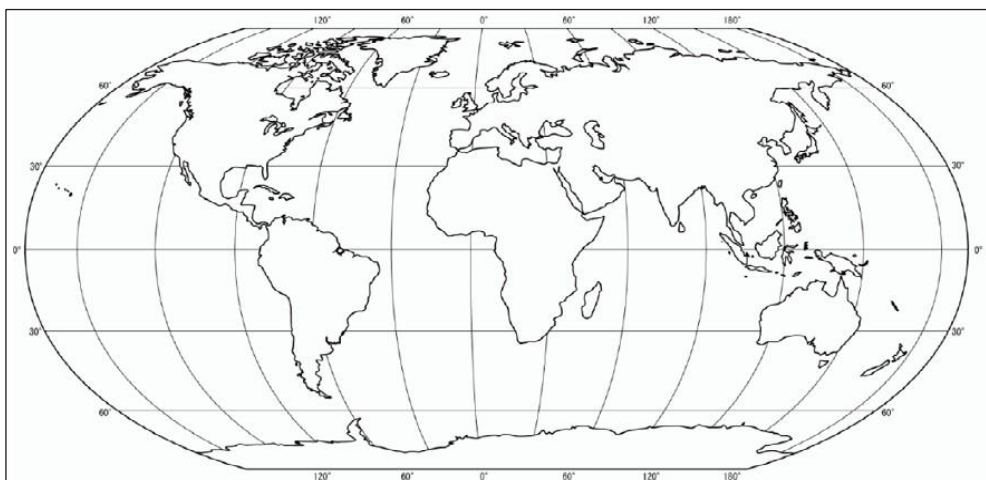
Signatura de l'alumne/a:

**Bona sort!**

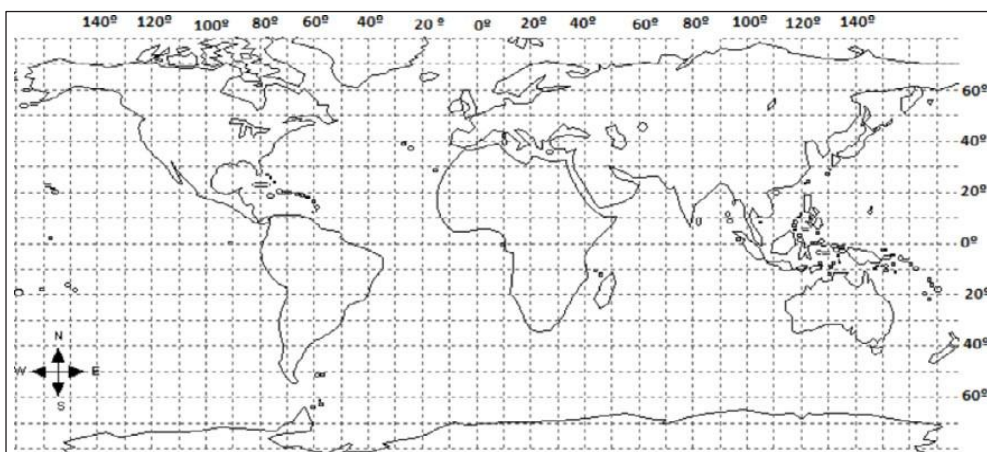
**1. Contestau les preguntes següents:**

a) Definiu els termes *latitud* i *longitud*. (0,5 punts)

b) Localitzau i escriuiu sobre el planisferi els paral·lels i meridians. (0,5 punts)



**2. Trobau les coordenades geogràfiques aproximades de Mèxic, les Illes Canàries, Madagascar i el Japó. (1 punt: 0,25 punts cada un)**



3. **Contestau les qüestions plantejades referides a l'evolució de la població dels diversos territoris de les Illes Balears al llarg del segle XXI.**

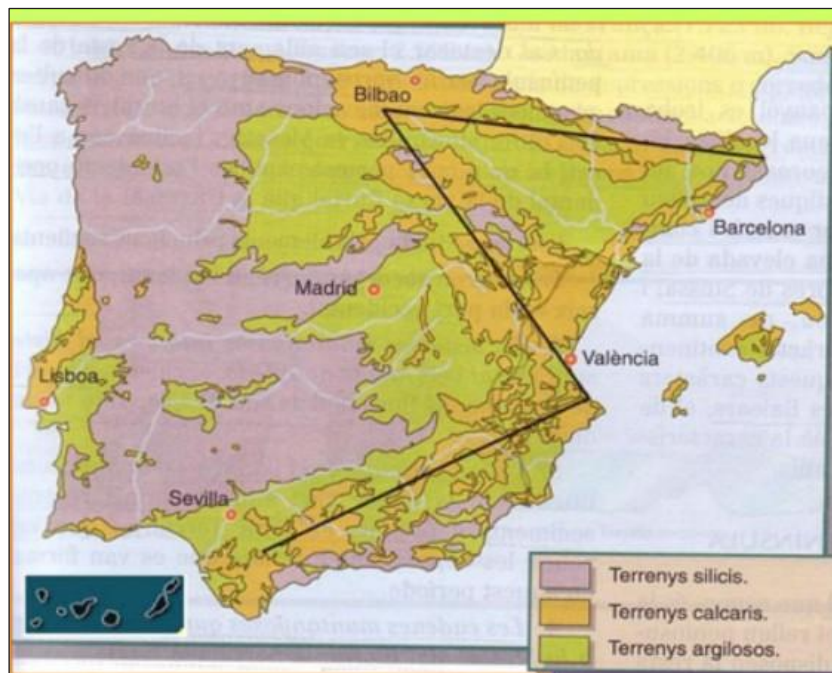
	<b>2000</b>	<b>2005</b>	<b>2010</b>	<b>2015</b>
<b>Mallorca</b>	677.014	777.821	869.067	859.289
<b>Menorca</b>	72.716	86.697	94.383	92.348
<b>Eivissa</b>	89.611	111.107	132.637	140.964
<b>Formentera</b>	6.289	7.506	9.962	11.878
<b>Total Illes Balears</b>	845.630	983.131	1.106.049	1.104.479

*Font: INE.*

a) Quina ha estat l'evolució de la població de les Illes Balears? Quines etapes es poden distingir? (0,5 punts)

b) Definiu els termes següents: densitat demogràfica, taxa d'envelliment, taxa de fecunditat, migració, esperança de vida. (1 punt: 0,2 punts cada resposta)

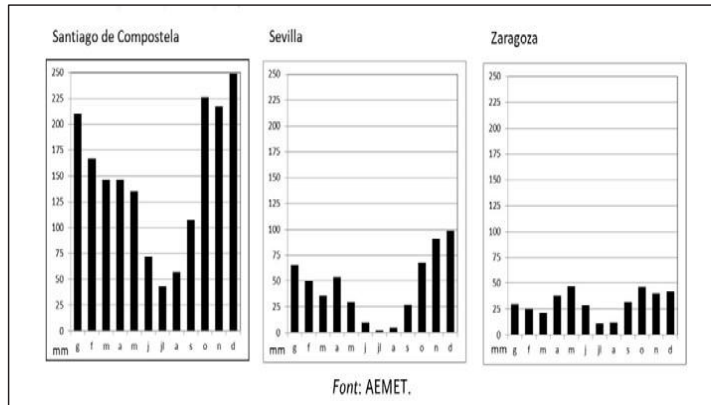
4. Responen les preguntes següents referents al mapa físic d'Espanya:



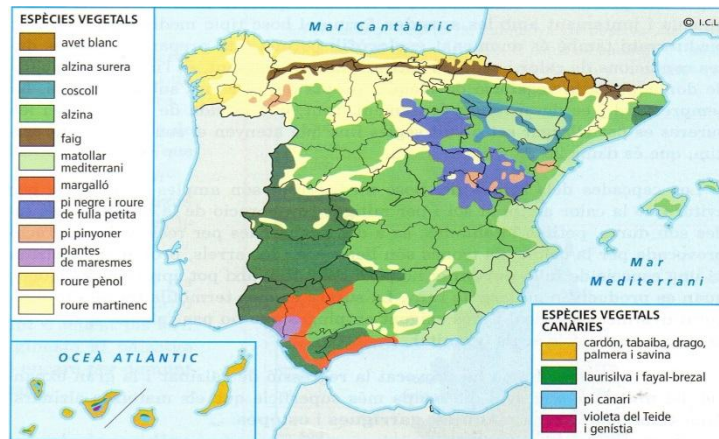
- Situa en el mapa els dos cims més alts de la península Ibèrica, el cim més alt de les Illes Balears i el cim més alt de les Illes Canàries. (0,5 punts)
- Posa el nom de les serralades que corresponen a la Z invertida. (0,5 punts)

**5. Responen les preguntes següents a partir dels climogrames i de la informació del mapa (sobre formacions vegetals):**

- a) Explicau les diferències de precipitacions dels climogrames de Santiago de Compostela, Sevilla i Saragoza. Identificau almenys un tipus de clima. (0,5 punts)



b) Explicau les formacions vegetals del clima oceànic. (0,5 punts)



6. El mapa següent correspon a la distribució territorial de la xarxa de ferrocarrils d'alta velocitat a les regions peninsulars d'Espanya. Indica el tipus de distribució de xarxa que segueix el traçat de ferrocarril d'alta velocitat. (0,5 punts)



7. Responen les qüestions següents:



- a) Localitzau en el mapa sis comunitats autònomes i quatre capitals de comunitat autònoma. (1 punt: 0,01 punts cada resposta)
- b) Explicau què és una comunitat autònoma. (0,5 punts)

**8. Observau els dos plànols de diferents parts de la ciutat, l'eixample i el centre històric, i contestau les preguntes següents:**



Eixample



Centre històric

- a) Quines són les característiques de l'eixample de la ciutat i del centre històric? En què es diferencien? (0,5 punts)



- b) Definiu els termes següents: conurbació urbana, perifèria, àrea metropolitana, megaciutat, barraquisme. (0,5 punts: 0,1 punts cada resposta)

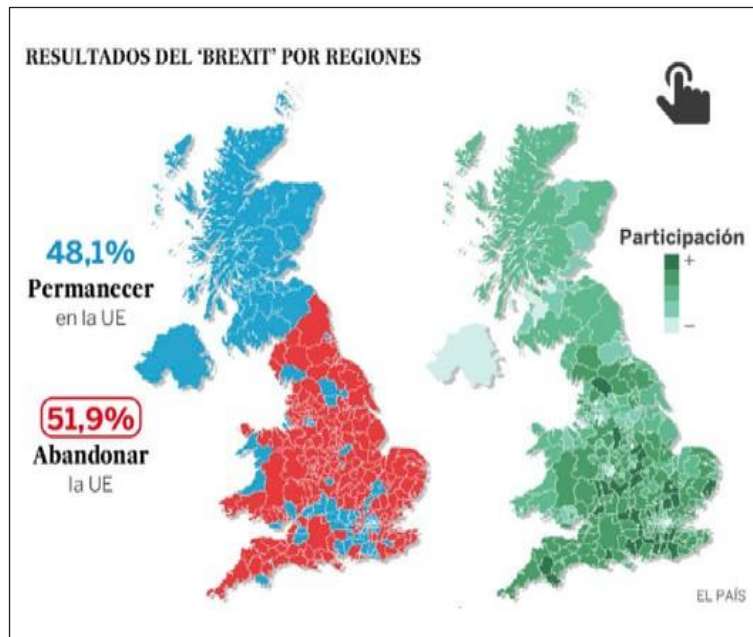
9. Comentau les qüestions plantejades a partir de la taula estadística següent, corresponent a la distribució de la població activa per sectors econòmics durant el quart trimestre de 2017.

	<b>Sector primari</b>	<b>Sector secundari</b>	<b>Sector terciari</b>
<b>Almeria</b>	29,00	11,87	59,13
<b>Guipúscoa</b>	0,63	31,33	68,04
<b>Illes Balears</b>	0,94	18,68	80,38
<b>Espanya</b>	4,93	20,18	74,89

*Font: processament de dades de l'INE.*

- a) Quines diferències s'aprecien en la distribució per sectors econòmics de la població activa de les tres províncies? (0,5 punts)

**10. Responen les preguntes següents sobre la Unió Europea:**



- a) Indicau quants països formen la Unió Europea. (0,5 punts)
- b) Escriviu els noms de deu països que formen part de la UE (Estats membres). (0,5 punts: 0,05 punts cada resposta)